


# Matemáticamente

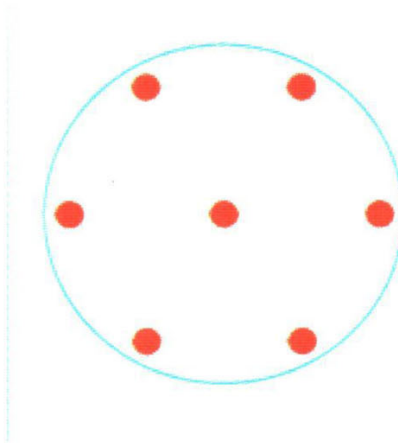


Nombre: \_\_\_\_\_

- Después de comernos 8 manzanas nos quedan 7 ¿Cuántas teníamos?

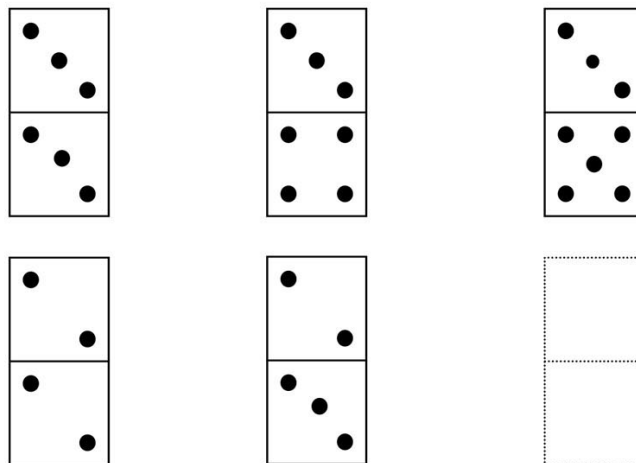


- Traza tres rectas de tal forma que cada uno de los puntos quede separado del resto.



- Un cajón lleno de fruta pesa 69 kilos y vacío 7. ¿Cuánto pesa la fruta?


- Descubre el orden de estas fichas y dibuja los puntos que consideres.



Divertíaula


# Matemáticamente

- Dibuja las cartas de las que se tratan:



- Las tres cartas son un rey, un caballo y una sota.
- Los palos son oros, copas y espadas.
- La carta de oros está entre el caballo y la carta de copas.
- La sota está a la derecha de la carta de espadas.

- ¿Cuánto pagará Alberto por 1 kg y medio de plátanos, si un kg cuesta 2€ 20 cent?



- Mónica tiene 9 años menos que Juan. Si Juan tiene 23 años. ¿Qué edad tendrá Mónica dentro de 15 años?

- Calcula mentalmente y escribe en la columna correspondiente.

¿Cuánto hay que sumarle a ...	... para obtener?	Respuesta
<b>88</b>	<b>1000</b>	
<b>579</b>	<b>800</b>	
<b>199</b>	<b>500</b>	
<b>8250</b>	<b>10000</b>	
<b>4570</b>	<b>6000</b>	
¿Cuánto hay que restarle a ...	para obtener?	Respuesta
<b>1000</b>	<b>750</b>	
<b>3000</b>	<b>2890</b>	
<b>10000</b>	<b>4500</b>	
<b>5000</b>	<b>1900</b>	
<b>8000</b>	<b>6200</b>	

Divertíaula