

Matemáticamente



Nombre: _____

- Completa las cifras que faltan.

$$\begin{array}{r}
 4 \ 2 \ 7 \ \square \\
 4 \ 8 \ 6 \\
 + \ 9 \ 5 \ \square \ 6 \\
 \hline
 \square \ 4 \ \square \ 6 \ 7
 \end{array}
 \qquad
 \begin{array}{r}
 \square \ 2 \ 5 \ \square \\
 - \ 4 \ 7 \ \square \ 6 \\
 \hline
 8 \ \square \ 0 \ 0
 \end{array}$$

- Busca el número siguiendo las pistas.

- Es un número de 4 cifras.
- La primera y la última son iguales y suman 6.
- Las dos centrales, también son iguales, y suman 4.

El número es _____

- Encuentra en la sopa de números los siguientes y colorea según se indica:

12.283,61 - 765,34 - 18.954,26 - 27.631,91 - 0,34 - 1,22

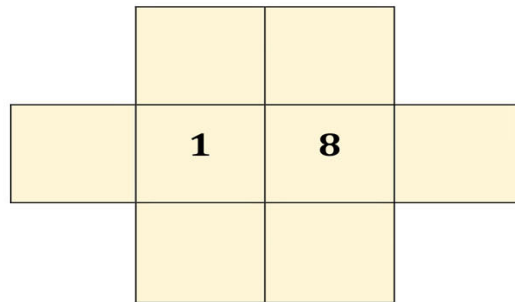
7	6	5	,	3	4	0	,	3	6	,	8	7	,	3	2	5	0	3
8	1	8	9	6	4	2	7	6	3	1	,	9	1	,	0	3	5	,
6	8	,	5	4	7	7	1	,	8	9	5	4	,	0	9	7	1	8
4	5	7	,	1	6	6	5	0	1	8	9	5	4	,	2	6	6	3
9	,	9	4	,	5	8	3	,	0	3	4	1	2	2	7	6	5	,
,	3	,	6	0	,	3	4	2	,	5	6	,	0	7	6	5	,	3
7	8	5	7	1	4	1	,	4	4	,	1	2	2	8	3	,	6	1
3	,	2	,	1	4	2	9	1	3	7	3	6	3	6	,	4	8	3
,	1	0	1	9	,	0	8	,	1	,	2	2	,	7	9	1	3	7
2	3	0	3	,	2	3	2	3	,	9	5	2	7	4	1	5	4	,
7	6	,	5	3	4	,	1	8	9	5	,	4	2	6	3	0	,	8

Divertíaula

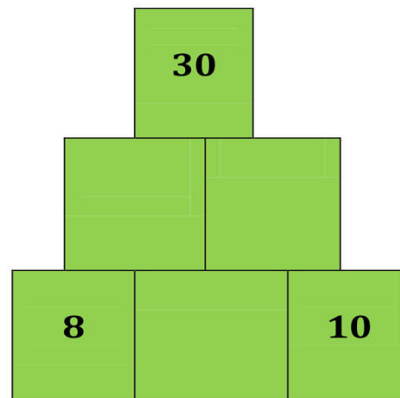
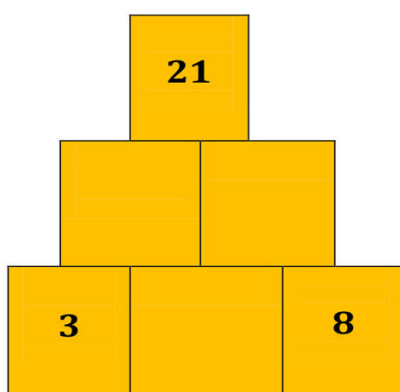
Matemáticamente

- En un banquete hay dos hombres más que mujeres. En total hay 100 invitados. ¿Cuántos hombres y mujeres habrá?

- Escribe los números 2, 3, 4, 5, 6 y 7, uno en cada casilla, de tal forma que no haya números consecutivos ni en horizontal, ni en vertical, ni tampoco en diagonal.



- Empezando por la base, cada casilla se obtiene sumando los dos números que tiene justamente debajo.



- Andrea compra un melón de tres kilos y medio. Si el melón se vende a 1,20 € el kilo, ¿cuánto paga por él?

