

Matemáticamente



Nombre: _____

- Utilizando las operaciones de sumar, restar, multiplicar o dividir deberás obtener **6** como resultado, con cada grupo de números.

15 - 19 - 24 →

20 - 22 - 36 →

- Averigua el valor de cada letra.

$A : 3 = 80$	$120 : B = 2$	$360 : C = 9$	$D : 6 = 60$	$E : 5 = 90$
$F \times F = 81$	$G \times G = 100$	$H \times K = 77$	$J \times K = 55$	$J \times L = 400$

A= B= C= D= E= F=

G= H= I= J= K= L=

- ¿Qué número debería aparecer en la casilla central?

5	6	3	2	6
1	4	3	8	0
6	5		1	7
3	2	5	6	2
4	7	2	3	5


- Si unos zapatos del número 38 miden 26 cm y unos del número 42 miden 32 cm, ¿cuánto medirán unos zapatos del número 39?



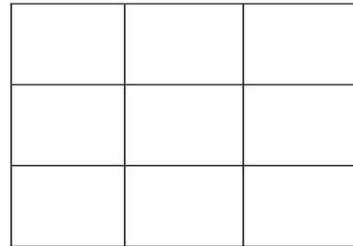

Divertíaula

Matemáticamente

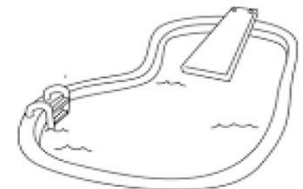
- Un hombre que pesa 50 kg y sus dos hijos, que pesan 25 kg cada uno, deciden cruzar un río en una barca que solo puede mantener a flote 50 kg, ni uno más. ¿Cómo podrán pasar al otro lado del río?



- Recoloca los símbolos del siguiente cuadro para que en cada fila y columna haya exactamente dos símbolos iguales.



- Entre María, Pedro e Itziar tienen 105 €. Si María tiene el doble de Pedro, y Pedro, el doble que Itziar, ¿cuánto tiene cada uno?
- Una piscina se llena en 30 días. Si cada día se llena el doble que el anterior, ¿qué día estará por la mitad?



- Si 6 carpinteros hacen 6 puertas en 6 minutos, ¿cuánto tiempo tardarán 60 carpinteros en fabricar 60 puertas?

Divertíaula