

Matemáticamente




Nombre: _____

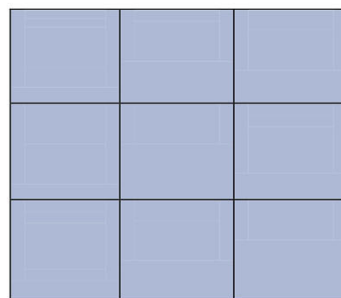
- Un equipo de fútbol compró 8 camisetas con 200€. Con 450€, ¿cuántas podrán comprar?
- La suma de dos números consecutivos es 21 y su producto 110. ¿Cuáles son esos números?



- Descubre el orden de estas fichas y dibuja los puntos que falten.




- Coloca los números 1, 2, 3, 4, 6, 9, 12, 18 y 36 de tal forma que el producto de sus filas, columnas y diagonales sea siempre el mismo.



Divertíaula

Matemáticamente

- Ordena los recipientes de mayor a menor peso.



- Completa las series:

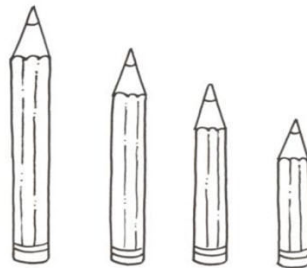
5	13	11	19	17				
---	----	----	----	----	--	--	--	--

25	19	22	16	19				
----	----	----	----	----	--	--	--	--

5	15	8			21	14	24	
---	----	---	--	--	----	----	----	--

55	44			51	40	49	38	
----	----	--	--	----	----	----	----	--

- Pinta cada lápiz del color que le corresponda, teniendo en cuenta que:
 - El lápiz rojo es más corto que el verde y más largo que el azul.
 - El lápiz azul es más largo que el amarillo.



- Encuentra el valor de cada figura, teniendo en cuenta la suma de las filas.

			= 12
			= 9
			= 13



Divertiaula