


# Matemáticamente



Nombre: \_\_\_\_\_

- Dibuja sobre esta trama de puntos un polígono de 10 lados.



- Sitúa los paréntesis para que se cumplan los resultados.

$$16 : 10 - 6 = 4$$

$$25 + 5 \times 20 = 600$$

$$6 \times 5 - 2 = 18$$

$$5 + 4 \times 3 = 27$$

- Si sumas doce de los trece primeros números, te dará 90. ¿Cuál es el número que no tienes que sumar?
  
  
  
  
  
  
  
  
  
  
- En un examen de 40 preguntas. ¿Cuántas son necesarias para obtener un seis?

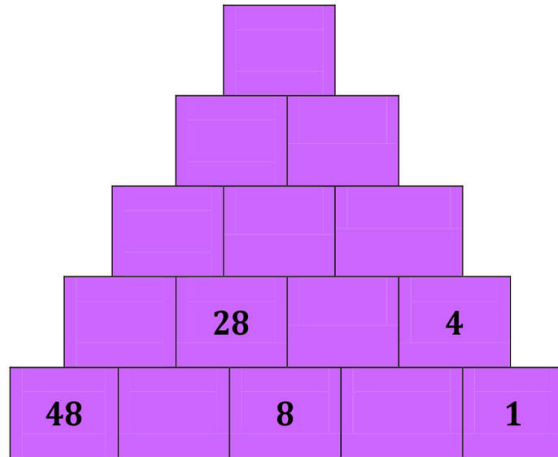


- María y Sonia pesan 74 kg. Sonia y Julia pesan 71 kg. Julia y Ángela pesan 72 kg. Si Ángela pesa 37 kg, ¿cuál es el peso de cada una de las otras tres niñas?

Divertíaula

# Matemáticamente

- Completa la pirámide teniendo en cuenta, que cada casilla se obtiene sumando las dos que tiene, justo debajo.



- Escribe los signos necesarios para que se cumplan los resultados.

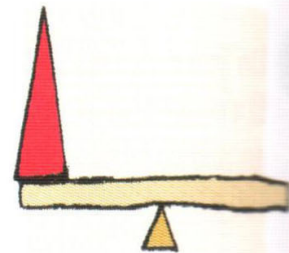


$$(2 \bigcirc 3) \square (8 \bigcirc 4) = 8$$

$$(4 \bigcirc 5) \square (9 \bigcirc 3) = 17$$

$$9 \times \bigcirc = 17 \bigcirc 10$$

$$6 \times \bigcirc = 19 \bigcirc 7$$

- ¿Cuántas esferas hacen falta para equilibrar la tercera balanza?



Divertíaula