

Matemáticamente



Nombre: _____

- Entre Laura y Francisco tienen 7 camisetas; entre Francisco y Carlos, 6 camisetas, y entre Laura y Carlos, 5. ¿Cuántas camisetas tiene cada uno?

- Descubre las cifras que faltan:

$$\begin{array}{r} 4 \square 2 \square \\ + \square 4 \square 6 \\ \hline 6 2 1 5 \end{array}$$

$$\begin{array}{r} 9 3 \square 4 \\ - 2 \square 8 \square \\ \hline \square 2 1 8 \end{array}$$


- Un empresario compra 400 litros de aceite por 1200€. ¿A cómo tendrá que vender el litro si quiere ganar 800€?
- Paco compró un paquete de chicles por 87 céntimos. Pagó con una moneda de 1€. Si le devolvieron cuatro monedas, ¿cuáles fueron?
- Si en una resta el minuendo es 3546 y la diferencia 1789. ¿cuál es el sustraendo?



Divertíaula

Matemáticamente

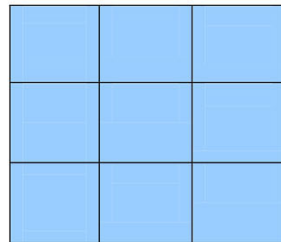
- Termina los siguientes dibujos.



- En una carrera ciclista, Felipe llegó justo después que Alba y Lucía entró después que Felipe y antes que Hugo. ¿En qué puesto llegó cada uno?




- Sitúa en este cuadrado mágico estos números: 2, 4, 6, 8, 10, 12, 14, 16 y 18.



- La mitad de los tulipanes que tiene el ramo de Rocío son rojos; la cuarta parte, rosas, y el resto, amarillos. Tiene 3 tulipanes rosas. ¿Cuántos tulipanes tiene el ramo?

- ¿Cuánto cuesta este queso si se vende a 12€ el kg?



Divertíaula