

Matemáticamente



Nombre: _____

- Edu ha comprado 5 piruletas. Paga con una moneda de 1€ y le devuelven 20 céntimos. ¿Cuánto ha costado cada piruleta?



- Elige uno de los cuatro números propuestos para que las series tengan una secuencia lógica.

5	1	8	1	11	1	
---	---	---	---	----	---	--

12 - 13 - 14 - 10


5	11	17	23	29	
---	----	----	----	----	--

34 - 37 - 35 - 39

6	7	10	11	14	15	
---	---	----	----	----	----	--

17 - 16 - 13 - 18

- Reproduce estas figuras con un radio de 3 cm.



Divertíaula

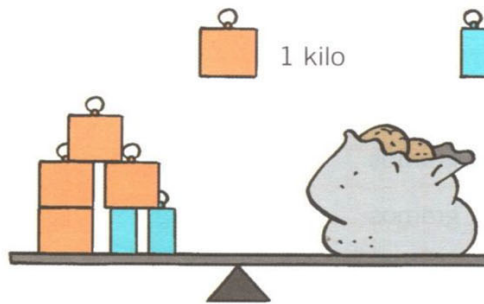
Matemáticamente

- Completa los números que faltan en cada tira.

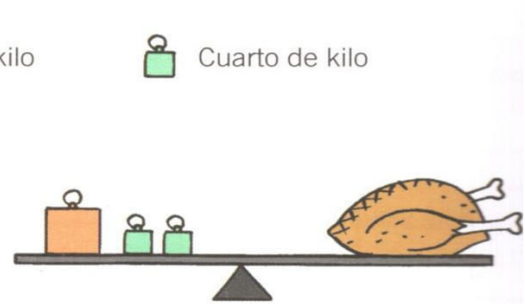
10		11	7	6
	6			
15				

8		6	10	4
5	2			9
		13		


- Observa el valor de las pesas y completa:



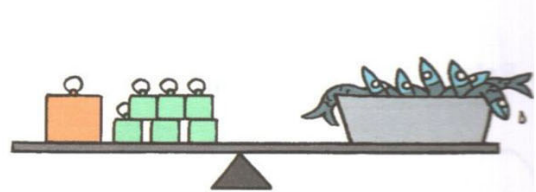
Las patatas pesan



El pollo pesa.....




Las madalenas pesan



Las sardinas pesan

- ¿Cómo puedes pesar 3 kg de alubias con una balanza y dos pesas de 5 kg y de 2 kg?



- Completa los huecos.

$$\begin{array}{r}
 7 \ 5 \ 8 \ 3 \\
 + \square \ \square \ \square \ \square \\
 \hline
 1 \ 0 \ 8 \ 4 \ 2
 \end{array}$$

$$\begin{array}{r}
 \square \ \square \ \square \ \square \\
 - \ 5 \ 4 \ 9 \ 7 \\
 \hline
 2 \ 6 \ 3 \ 9
 \end{array}$$

Divertiaula