

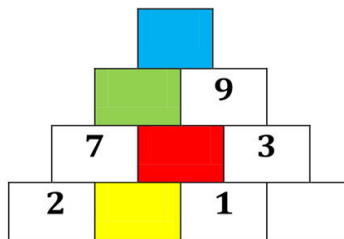
Matemáticamente



Nombre: _____

- ¿Cuánto hay que sumarle a 39, para que sea igual al mayor número par de dos cifras?
- Pepe tiene 13 años menos que María, y María 11 menos que Roberto. Si Roberto tiene 45 años, ¿cuántos años tendrá Pepe ?
- Paco tiene 305 cromos más que Lidia. Lidia tiene 219 menos que Ricardo. Si Ricardo tiene 600 cromos, ¿cuántos cromos tienen Paco y Lidia?
- Empezando por la base, cada casilla se obtiene sumando los dos números que tiene justamente debajo. Encuentra el valor de cada color:


 =  =  = 5  =




Divertida

Matemáticamente

- Expresa este reparto en forma de división:



- Calcula el peso de cada saco.



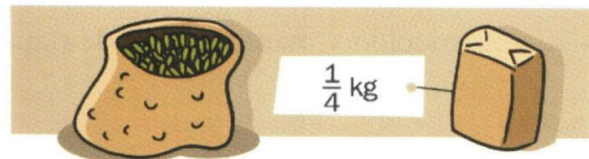
A =

B =

- ¿Cómo puedes medir 3 litros de agua usando un cántaro de 5 litros y otro de 4 litros?



- ¿Cuántos paquetes de cuarto de kilo se llenan con dos kilos y medio de cacahuetes?



- La mitad de las canicas que tiene Rubén son rojas; la cuarta parte, azules, y el resto, verdes. Tiene 3 canicas azules. ¿cuántas tiene en total?

Divertíaula