

# Matemáticamente



Nombre: \_\_\_\_\_

- Completa con un número decimal.

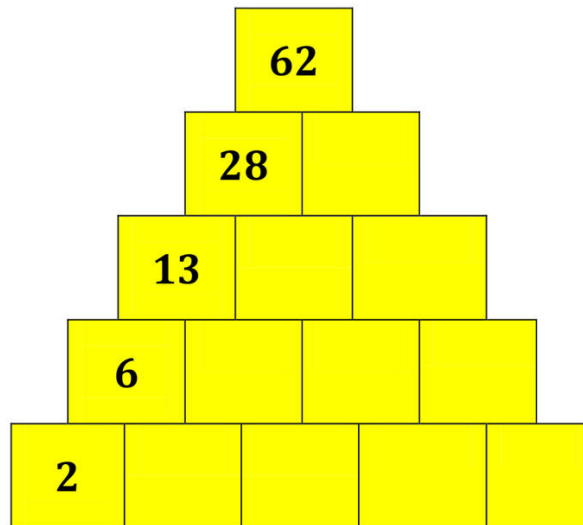
$$2,75 < \dots < 2,8$$

$$1 < \dots < 1,1$$

$$3,5 < \dots < 3,53$$

$$0,36 < \dots < 0,4$$

- Comenzando por la base, cada casilla se obtiene sumando las dos que tiene, justo debajo.



- Completa.


	1		2
			3
1			
4	3		

1			3
		4	
	1		
3			4

Divertitaula

# Matemáticamente

- Trata de dibujar estas figuras sin levantar el lápiz ni pasar dos veces por la misma línea.



- Ana tiene 6€ más que Julia, que es lo mismo que decir que tiene el triple que ella. ¿Cuántos € tiene cada una?

- Cada dibujo representa la misma cifra. ¿Cuál?

$$\begin{array}{r}
 \text{☾} \quad \text{♥} \quad 3 \\
 \times \quad \text{★} \quad 0 \quad 5 \\
 \hline
 \phantom{+} \quad 6 \quad \text{☾} \quad 5 \\
 + \quad \text{★} \quad 9 \quad \text{♥} \\
 \hline
 \text{★} \quad 9 \quad 8 \quad \text{☾} \quad 5
 \end{array}$$


$$\begin{array}{r}
 5 \quad \text{♥} \quad \text{★} \\
 \times \quad \text{☾} \quad 0 \quad 3 \\
 \hline
 \text{☾} \quad 5 \quad 7 \quad \text{♥} \\
 + \quad 5 \quad \text{♥} \quad \text{★} \\
 \hline
 5 \quad 3 \quad 9 \quad 7 \quad \text{♥}
 \end{array}$$

★ =

♥ =

☾ =

- ¿Cuántas bolas negras pesan lo mismo que una roja?



Divertiaula