

Matemáticamente



Nombre: _____

- ¿Cuál es el resultado de multiplicar 6 por su doble?
- Si antes de ayer fue lunes, ¿qué día será mañana?
- Encuentra el valor de cada figura.

$$\text{●} - 6 = 10 - \text{●}$$

$$\text{■} + \text{●} = 19$$

$$\text{■} = \underline{\hspace{2cm}}$$

$$\text{●} = \underline{\hspace{2cm}}$$

- Continúa las series:

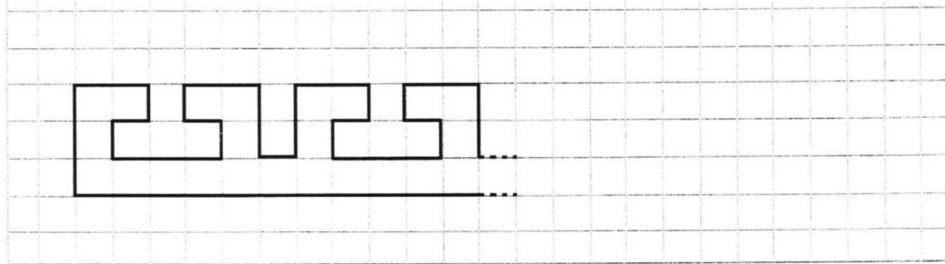
III	V	VII						XIX
-----	---	-----	--	--	--	--	--	-----

I	II	IV		XVI				
---	----	----	--	-----	--	--	--	--

LIX	LV	LI						
-----	----	----	--	--	--	--	--	--

CDXX	CDX	CD						
------	-----	----	--	--	--	--	--	--

- Completa hasta el final y colorea:



Divertíaula

Matemáticamente


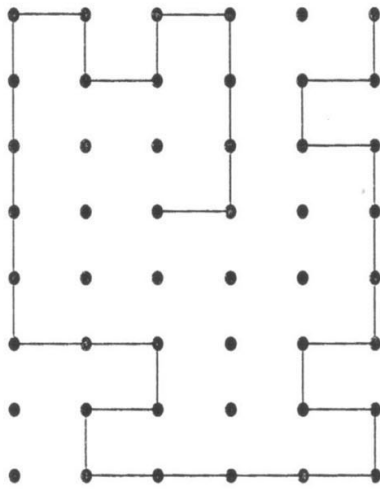
- Completa los huecos de estas multiplicaciones.

$$\begin{array}{r} \square \square 3 \\ \times \square \\ \hline 4 \ 5 \ 9 \end{array}$$

$$\begin{array}{r} \square 2 7 \\ \times \square \\ \hline 8 \ \square \ 9 \end{array}$$

$$\begin{array}{r} \square \square 9 \\ \times 9 \\ \hline 8 \ \square \ 8 \ \square \end{array}$$

- Copia la figura. Debe quedar igual que el modelo.



- Tienes que pensar qué figura o número debe ocupar cada casilla vacía, de modo que en todas las filas, columnas y secciones contengan cada cifra o figura una sola vez.

			□
☆	□	△	○
△		□	
□			

	2	4	
1			3
4			2
	1	3	